

Pozdravljeni!

Upam, da ste se spočili od prijetnega in morda za koga tudi nekoliko napornega tabora.

Pošiljam vam usmeritve za delo na daljavo. Kadarkoli mi lahko pošljete tudi kakršnokoli vprašanje. Odgovorila bom v najkrajšem možnem času.

MAT – Utrdi znanje. Reši učni list o delih celote. Če si karkoli pozabil(a), poglej v DZ, in preberi razlago. (3. del – od strani 15 do 26)

Legenda:

- ❖ težja naloga
- Priloga: učni list

NIT – Uredi zvezek naravoslovja. Dopiši vse kar se spomniš s tabora skozi cel teden. Zapis naj bo oblikovan z lepimi povedmi. Ne ponavljaj besed. Uporabljalj ločila. Na koncu napiši tudi svoje vtise.

O vsakem dnevu naj bo 10 ali več povedi. Lahko tudi kaj narišeš.

Pomisli kaj si izvedel o energiji (vodni, električni...), nato pa o tem preberi še v Učbeniku za naravoslovje.

ŠPO – sprehod v naravo (s starši)

SLJ - KAJ JE POVED?

Reši naloge: DZ str. Od strani 28 do 30.

Upam, da imaš DZ za slovenščino doma. Če ga nimaš, napiši 8 pripovednih, 8 vzkličnih in 8 vprašalnih povedi v zvezek.

Ne pozabite na branje. (beri karkoli imaš doma)

Dragi moji, ne pozabite: vse bo minilo, tudi trenutno stanje.

Za zdaj se ne družite, pokličite se.

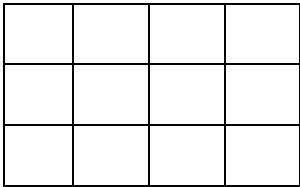
Zdravje je sedaj najpomembnejše. Pa brez skrbi.

Lep pozdrav

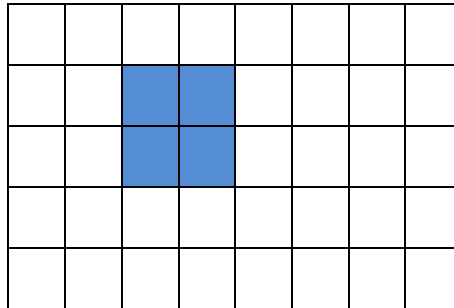
tvoja učiteljica Bogdana

UTRDI ZNANJE

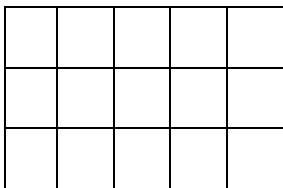
1.a) Četrtno pravokotnika pobarvaj z zeleno. Šestino pravokotnika pobarvaj z modro.



b) Pobarvana je polovica lika. Pobarvaj ga do celote.



c) V tretjino štirikotnika nariši krogce,
V petino lika nariši trikotnike.



2. Izračunaj dele celote.

polovica od 18 je _____

osmina od 56 je _____

devetina od 36 je _____

sedmina od 28 je _____

3. Izračunaj celoto.

9 je sedmina od _____

7 je petina od _____

8 je polovica od _____

4 je šestina od _____

4. V dvorani je zasedenih 9 sedežev. To je osmina vseh sedežev. Koliko sedežev je v dvorani?
 5. Skupina 56 tabornikov se je odločila za organizacijo taborjenja. Sedmina tabornikov je sodelovala pri pripravljanju tabornega ognja, osmina jih je šla po vodo, polovica pa jih je postavljalo šotor. Koliko jih je sodelovalo pri drugih opravilih?
 6. Jana ima 150 cm dolg trak. Koliko je dolg desetkrat krajši trak
 7. Šestina vrvica je dolga 8 cm. Koliko je dolga cela vrvica?
 8. V trgovini imajo 80 kg moke. Prodali so jo četrtno. Koliko moke imajo še v trgovini?
 9. V košari je 6 rumenih jabolk. To je tretjina vseh jabolk, ki so v košari. Koliko jabolk je v košari?
- ❖ Boris in Miha bereta knjigo, ki ima 63 strani. Boris je prebral sedmino knjige, Miha pa dve devetini knjige. Koliko strani je prebral vsak?
- ❖ 8. Od 700 odštej tri petine števila 15.

